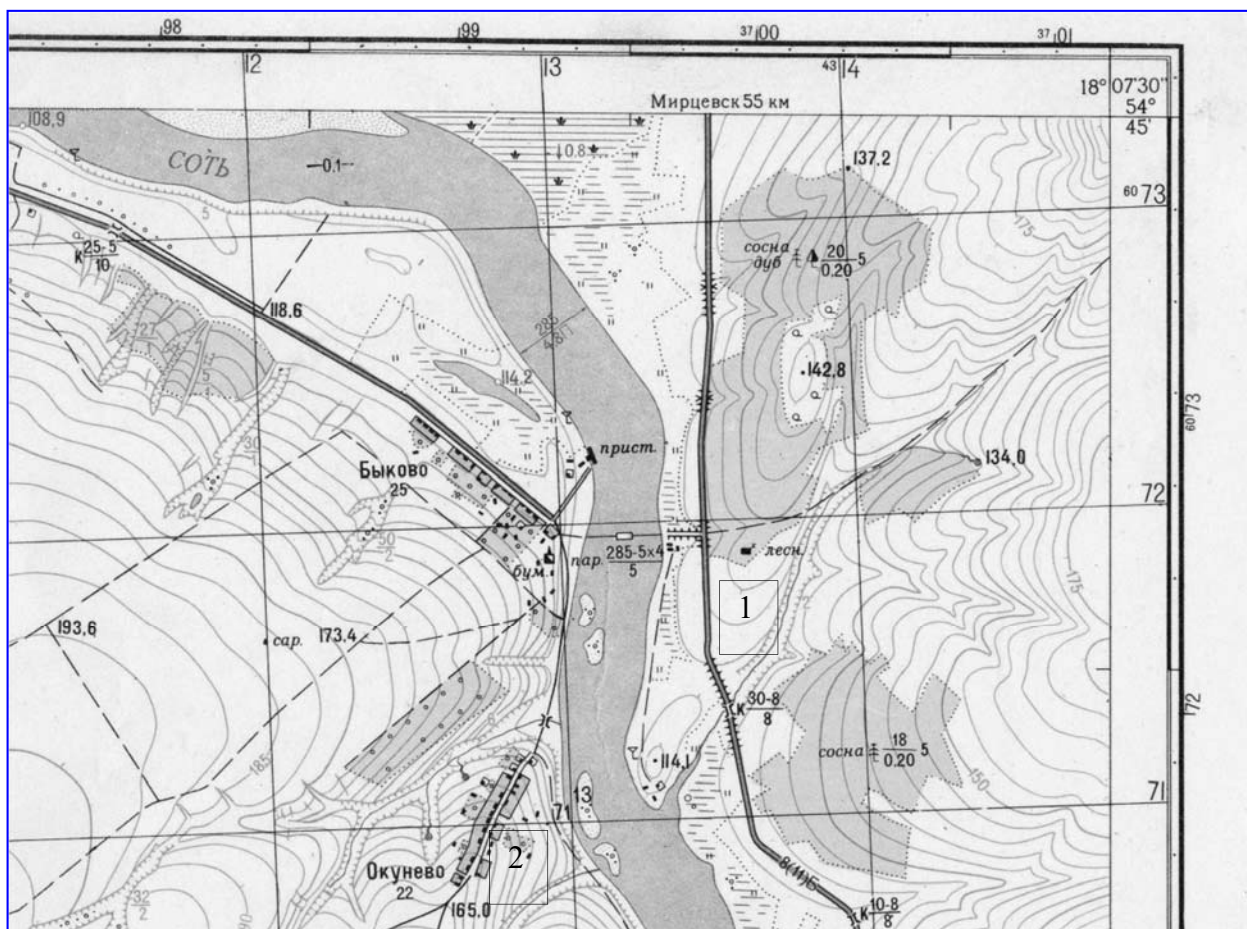


География. Облустук этап  
ПРАКТИКАЛЫК ТУР. ЖООПТОР

Практикалык турдун максималдуу упайы – 100 упай.

№ 1 тапшырма. Топографиялык карта менен иштөө (бардыгы 8 упай)



1. Соть дарыясына мүнөздөмө бергиле: багыты жана агымынын ылдамдыгына, нугунун туурасына жана тереңдигине, түбүнүн кыртышына.

**Жооп (2,5 упай):**

Туурасы – 285 метр (0,5 упай)

Тереңдиги – 4,8 метр (0,5 упай)

Агымынын ылдамдыгы – 0,1 м/сек (0,5 упай)

Түбү – кумдак (0,5 упай)

Бул картанын чектеринде дарыянын бийиктиги деңиз деңгээлинен 108,9 м (0,5 упай)

2. Токойчунун үйү менен сарайдын абсолюттук бийиктигин аныктагыла, кайсы объект бийик жайгашкан жана канча метрге? Токойчунун үйү менен сарайдын арасындагы аралыкты аныктагыла (метр менен).

**Жооп (2,5 упай)**

Токойчунун үйү – 122 м (балким, 121 же 123 метр) (0,5 упай)

Сарай – 182 м. (балким, 181 же 183 метр) (0,5 упай)

Сарай токойчунун үйүнөн 60 метрге бийик (балким, 59 же 61 метрге) (0,5 упай)

Алардын арасындагы аралык 1625 м-ге барабар ( $\pm 25$  м) (1 упай)

3. Бөлүнүп көрсөтүлгөн тилкелердин (1 же 2) кайсынысында жемиш багын өстүрсө болот? Тандоонузду далилдеп бериңиз (болушунча көбүрөөк далил келтиргиле).

**Жооп (3 упай):**

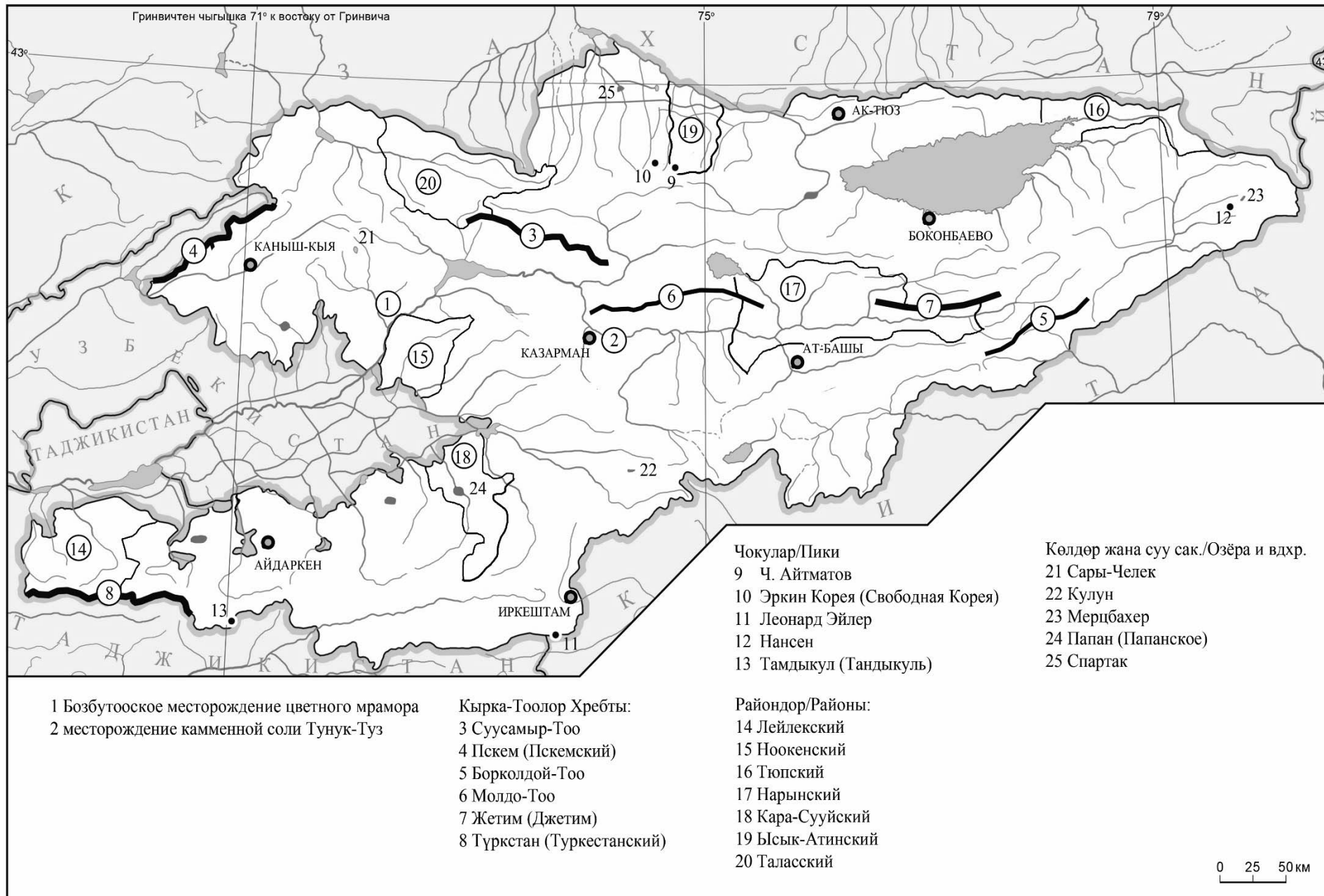
1-тилкеде (1 упай), анткени анын жанында жол өтөт (0,5 упай), аныкы түштүк экспозиция (0,5 упай), өсүмдүк (токой, бадалдар) жок (0,5 упай), ал жантайма (0,5 упай).

**№ 2 тапшырма.**

Кыргызстандын контурдук картасы менен иштөө  
**(Бардыгы 32 упай. Контурдук картада туура көрсөтүлгөн ар бир объект үчүн 1 упайдан берилет)**

1. Контурдук картага Бозбутоо түстүү мрамор кенин түшүргүлө. **(1 упай)**
2. Контурдук картага Тунук-Туз таш туз кенин түшүргүлө. **(1 упай)**
3. Контурдук картага Кыргызстандын төмөнкү калктуу пунктарын түшүргүлө: Каныш-Кыя **(1 упай)**, Казарман **(1 упай)**, Айдаркен **(1 упай)**, Эркечтам **(1 упай)**, Ат-Башы **(1 упай)**, Бөкөнбаев **(1 упай)**, Ак-Түз **(1 упай)**.
4. Контурдук картага төмөнкү тоо кыркаларын түшүргүлө: Суусамыр-Тоо **(1 упай)**, Пскем **(1 упай)**, Борколдой-Тоо **(1 упай)**, Молдо-Тоо **(1 упай)**, Түркстан **(1 упай)**, Жетим **(1 упай)**.
5. Контурдук картага Кыргызстандын төмөнкү чокуларын түшүргүлө: Ч. Айтматов чокусу **(1 упай)**, Эркин Корея чокусу **(1 упай)**, Леонардо Эйлер чокусу **(1 упай)**, Нансен чокусу **(1 упай)**, Тандыкүл чокусу **(1 упай)**.
6. Контурдук картага төмөнкү райондорду түшүргүлө: Лейлек **(1 упай)**, Ноокен **(1 упай)**, Түп **(1 упай)**, Нарын **(1 упай)**, Кара-Суу **(1 упай)**, Ысык-Ата **(1 упай)**, Талас **(1 упай)**.
7. Контурдук картага Кыргызстандын төмөндө берилген көлдөрүн жана суу сактагычтарын түшүргүлө: Сары-Челек көлү **(1 упай)**, Кулун көлү **(1 упай)**, Мерцбахер көлү **(1 упай)**, Папан суу сактагычы **(1 упай)**, Спартак суу сактагычы **(1 упай)**.

# КЫРГЫЗ РЕСПУБЛИКАСЫ. КЫРГЫЗСКАЯ РЕСПУБЛИКА



**№ 3 тапшырма.** Дүйнөнүн контурдук картасы менен иштөө.

Дүйнөнүн контурдук картасына төмөнкү географиялык объектилердин кайсы жерде жайгашканын көрсөткүлө:

**(Бардыгы 30 упай. Контурдук картада туура көрсөтүлгөн ар объект үчүн 1 упайдан берилет)**

**1.** Контурдук картага төмөнкү борбор шаарларды түшүргүлө.

1. Вадуц
2. Скопье
3. Нейпидо
4. Виндхук
5. Прая

**2.** Контурдук картага төмөнкү аралдарды түшүргүлө.

6. Суматра а.
7. Чоң Ляхов а.
8. Банкс а.
9. Колгуев а.
10. Жаңы Каледония а.

**3.** Контурдук картага төмөнкү мамлекеттерди түшүргүлө.

11. Польша
12. Либерия
13. Барбадос
14. Джибути
15. Непал

**4.** Контурдук картага төмөнкү дарыяларды түшүргүлө.

16. Дунай
17. Парана
18. Обь
19. Меконг
20. Миссисипи

**5.** Контурдук картага төмөнкү көлдөрдү түшүргүлө.

21. Кукунор
22. Лох-Несс
23. Атабаска
24. Маракайбо
25. Убсу-Нур



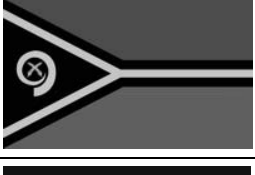







**6.** Контурдук картага төмөнкү жанар тоолорду түшүргүлө.

26. Этна
27. Эльбурс
28. Врангель
29. Тупунгато
30. Килиманжаро



№ 4 тапшырма. (Максималдуу упай саны 30, ар бир туура жооп үчүн 1 упайдан берилет):

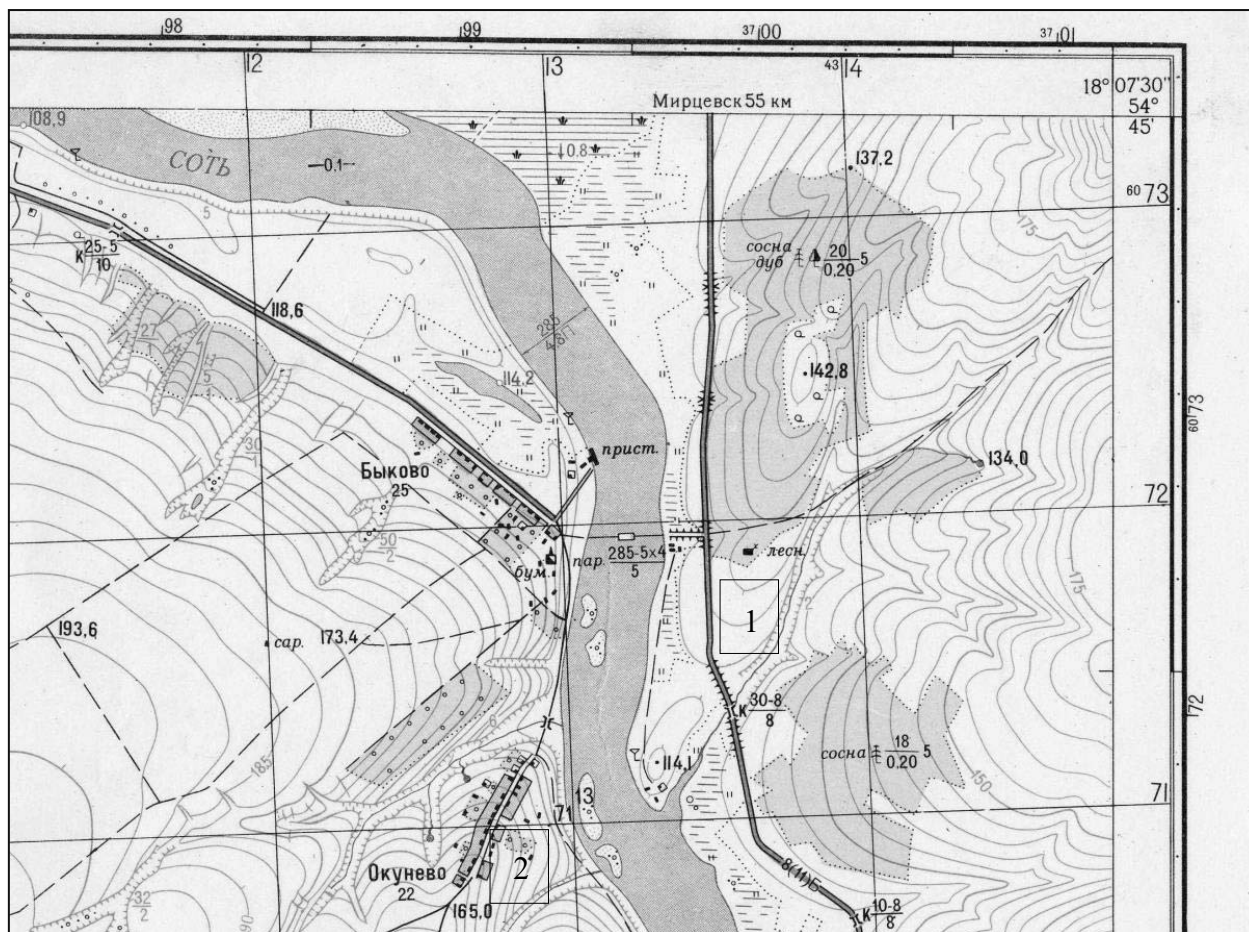
Төмөнкү таблицанын бош жерлерин толтургула.

Желек	Өлкө	Борбору	Дүйнө бөлүгү
	Албания	Тирана	Европа
	Белиз	Бельмопан	Америка
	Вануату	Порт-Вила	Океания
	Камбоджа	Пномпень	Азия
	Лесото	Масеру	Африка
	Латвия	Рига	Европа
	Малави	Лилонгве	Африка
	Монголия	Улан-Батор	Азия
	Никарагуа	Манагуа	Америка
	Папуа-Жаңы Гвинея	Порт-Морсби	Океания

География. Областной этап  
ПРАКТИЧЕСКИЙ ТУР. ОТВЕТЫ

Максимальное количество баллов за практический тур: 100

Задание №1. Работа с топографической картой (Всего 8 баллов)



1. Приведите основные характеристики реки Соть: направление и скорость течения, ширину и глубину русла, характер грунта дна.

**Ответ (2,5 балла):**

Ширина – 285 метров (0,5 балла)

Глубина – 4,8 метра (0,5 балла)

Скорость течения – 0,1 м/сек (0,5 балла)

Дно – песчаное (0,5 балла)

В пределах данной карты высота реки равна 108,9 м н.у.м. (0,5 балла)

2. Определите абсолютные высоты, на которых располагаются домик лесника и сарай, какой объект расположен выше и на сколько метров? Определите также расстояние между домиком лесника и сараем (в метрах).

**Ответ (2,5 балла):**

Дом лесника - 122 м (возможно 121 или 123 метра) (0,5 балла)

Сарай - 182 м. (возможно 181 или 183 метра) (0,5 балла)

Сарай выше домика лесника на 60 метров (возможно на 59 или 61 метр) (0,5 балла)

Между ними расстояние равно 1625 м ( $\pm 25$  м) (1 балл)

3. На каком из выделенных участков (1 или 2) можно разбить фруктовый сад. Свой выбор аргументируйте (приведите как можно больше аргументов).

**Ответ (3 балла):**

На участке 1 (1 балл), т.к. рядом с ним проходит дорога (0,5 балла), у него южная экспозиция (0,5 балла), отсутствует растительность (лес, кустарники) (0,5 балла), он пологий (0,5 балла).

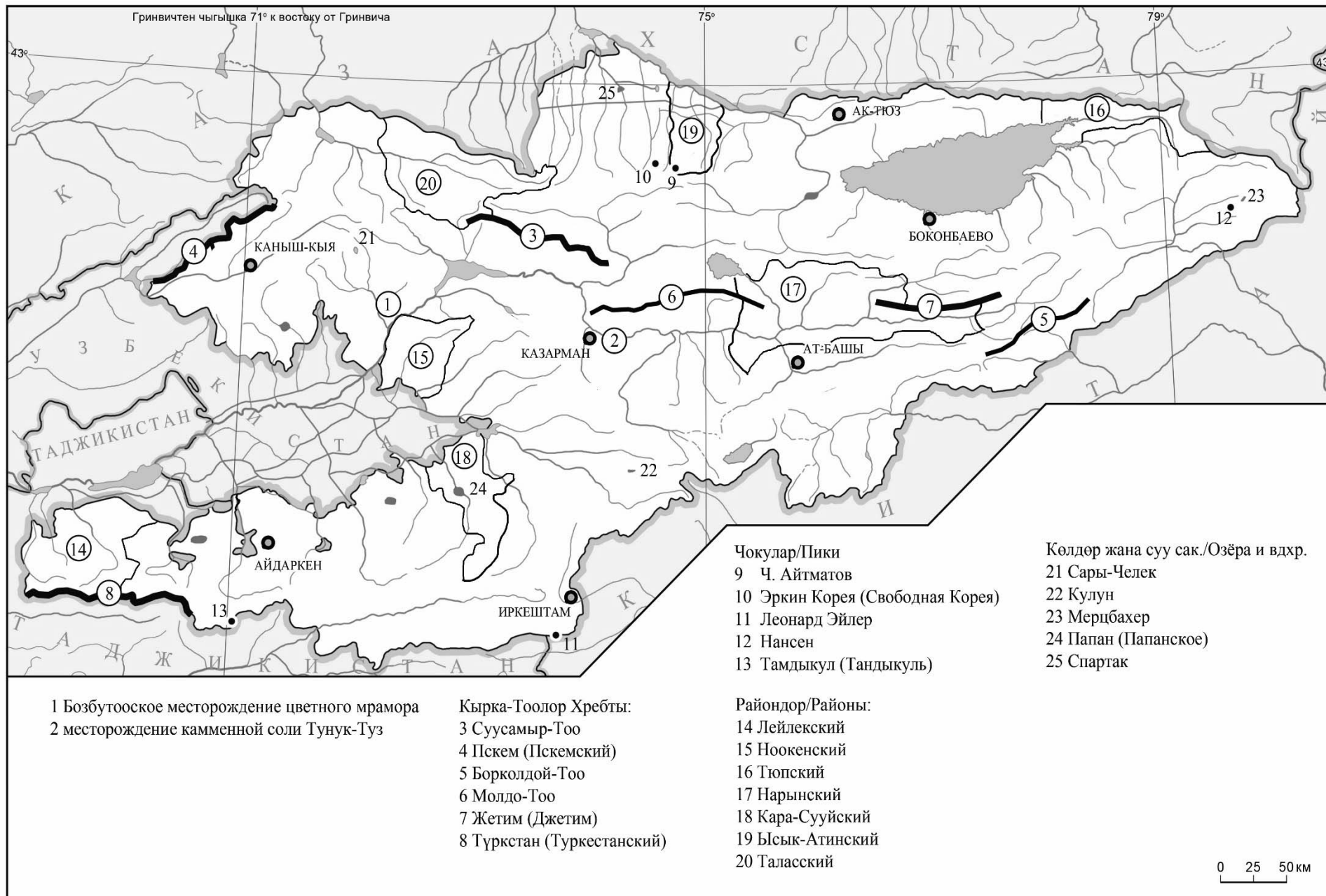
**Задание №2.**

Работа с контурной картой Кыргызстана  
(Всего 32 балла. По 1 баллу за каждый правильно указанный на контурной карте объект)

1. Нанесите на контурную карту Бозбутаоское месторождение цветного мрамора. (1 балл)
2. Нанесите на контурную карту месторождение каменной соли Тунук-Туз. (1 балл)
3. Нанесите на контурную карту следующие населённые пункты Кыргызстана: Каныш-Кыя (1 балл), Казарман (1 балл), Айдаркен (1 балл), Иркештам (1 балл), Ат-Башы (1 балл), Боконбаево (1 балл), Ак-Тюз (1 балл).
4. Нанесите на контурную карту следующие горные хребты: Суусамыр-Тоо (1 балл), Пскем (Пскемский) (1 балл), Борколдой-Тоо (1 балл), Молдо-Тоо (1 балл), Жетим (Джетим) (1 балл), Түркстан (Туркестанский) (1 балл).
5. Нанесите на контурную карту следующие пики Кыргызстана: пик Ч.Айтматова (1 балл), пик Свободная Корея (1 балл), пик Леонардо Эйлера (1 балл), пик Нансена (1 балл), пик Тандыкуль (1 балл).
6. Нанесите на контурную карту следующие районы: Лейлекский (1 балл), Ноокенский (1 балл), Тюпский (1 балл), Нарынский (1 балл), Кара-Сууйский (1 балл), Ысык-Атинский (1 балл), Таласский (1 балл).
7. Нанесите на контурную карту следующие озера и крупные водохранилища Кыргызстана: оз.Сары-Челек (1 балл), оз.Кулун (1 балл), оз.Мерцбахера (1 балл), Папанское вдхр. (1 балл), вдхр. Спартак (1 балл).



# КЫРГЫЗ РЕСПУБЛИКАСЫ. КЫРГЫЗСКАЯ РЕСПУБЛИКА



**Задание №3.** Работа с контурной картой Мира.

Укажите на контурной карте Мира где расположены следующие географические объекты:  
**(Всего 30 баллов. По 1 баллу за каждый правильно указанный на контурной карте объект)**

1. Нанесите на контурную карту следующие столицы.

1. Вадуц
2. Скопье
3. Нейпидо
4. Виндхук
5. Прага

2. Нанесите на контурную карту следующие острова.

6. о. Суматра
7. о. Большой Ляховский
8. о. Банкс
9. о. Колгуев
10. о. Новая Каледония

3. Нанесите на контурную карту следующие государства.

11. Польша
12. Либерия
13. Барбадос
14. Джибути
15. Непал

4. Нанесите на контурную карту следующие реки.

16. Дунай
17. Парана
18. Обь
19. Меконг
20. Миссисипи

5. Нанесите на контурную карту следующие озёра.

21. Кукуносор
22. Лох-Несс
23. Атабаска
24. Маракайбо
25. Убсу-Нур











6. Нанесите на контурную карту следующие вулканы.

26. Этна
27. Эльбурс
28. Врангель
29. Тупунгато
30. Климанджаро



**Задание №4. (Максимальное количество баллов 30, по 1 баллу за каждый правильный ответ):**

Заполните пустые ячейки нижеследующей таблицы.

Флаг	Страна	Столица	Часть Света
	Албания	Тирана	Европа
	Белиз	Бельмопан	Америка
	Вануату	Порт-Вила	Океания
	Камбоджа	Пномпень	Азия
	Лесото	Масеру	Африка
	Латвия	Рига	Европа
	Малави	Лилонгве	Африка
	Монголия	Улан-Батор	Азия
	Никарагуа	Манагуа	Америка
	Папуа-Новая Гвинея	Порт-Морсби	Океания