

2020/2021

Катышуучунун коду
Код участника

Кыргыз Республикасынын
Билим берүү жана илим
министрлиги



Министерство образования
и науки Кыргызской
Республики



БИЛИМДИ БААЛОО ЖАНА ОКУТУУ УСУЛДАРЫ БОРБОРУ
ЦЕНТР ОЦЕНКИ В ОБРАЗОВАНИИ И МЕТОДОВ ОБУЧЕНИЯ
CENTER FOR EDUCATIONAL ASSESSMENT AND TEACHING METHODS

Республикалык олимпиаданын II (райондук) этабы

География

1-күн

Фамилиясы/ Фамилия		Аты/Имя	
Атасынын аты/ Отчество			
Мектеби/Школа		Айылы/ Село	
Району/Район		Шаары/ Город	
Облусу/Область			
Телефону/ Телефон			

Нускама

Практикалык турдун тапшырмалары проблемалык (көйгөйлүү), изилдөөчүлүк мүнөзгө ээ. Катышуучуларга картографиялык материалдарды талдоо жөндөмдүүлүгүн, билимдерди колдонуу жана карталар менен иштөө шыгын талап кылган логикалык жана эсептик географиялык тапшырмалардын ар кандай варианттары сунушталат. Ошондой эле Кыргыз Республикасы боюнча жана бүткүл дүйнө боюнча географиялык объекттердин номенклатурасынын тизмеси да сунушталат.

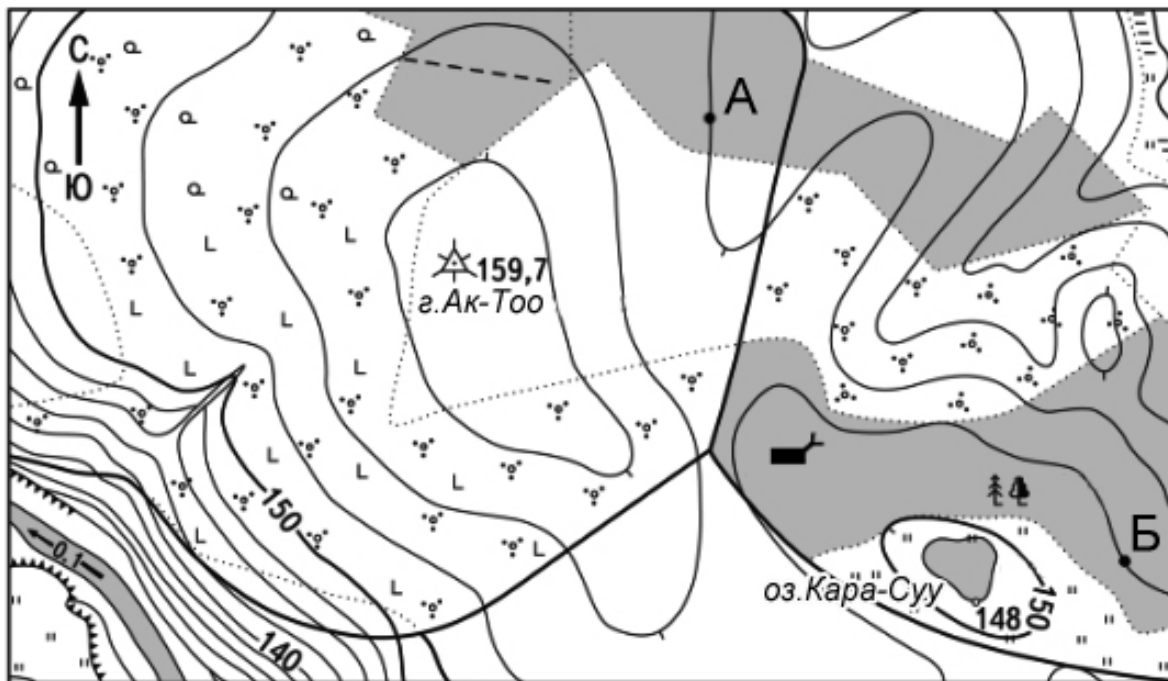
Практикалык турдун тапшырмаларын аткаруу үчүн олимпиаданын катышуучуларына түстүү калемдер (көк, кара, жашыл), транспортир, сызгыч, карандаш, каралама (черновик), өлчөөчү циркуль керек болот. Мобилдик телефондорду жана башка көрсөтмөлүү материалдарды (карталар, атластар ж.б.у.с.) колдонууга жол берилбейт. Керектүү математикалык жана графикалык эсептөөлөрдүн бардыгы администраторлор тарабынан таратылган караламаларга (черновиктерге) аткарылат. Теориялык турдун мөөнөтү – астрономиялык 3 саат.

Упайы
Баллы

Катышуучунун коду
Код участника

Практикалык тур үчүн бериле турган максималдуу упай: 105


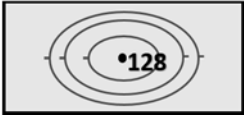

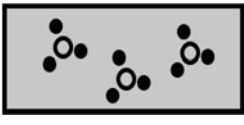





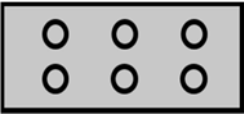
1-тапшырма. Топографиялык карта менен иштөө (12 упай)



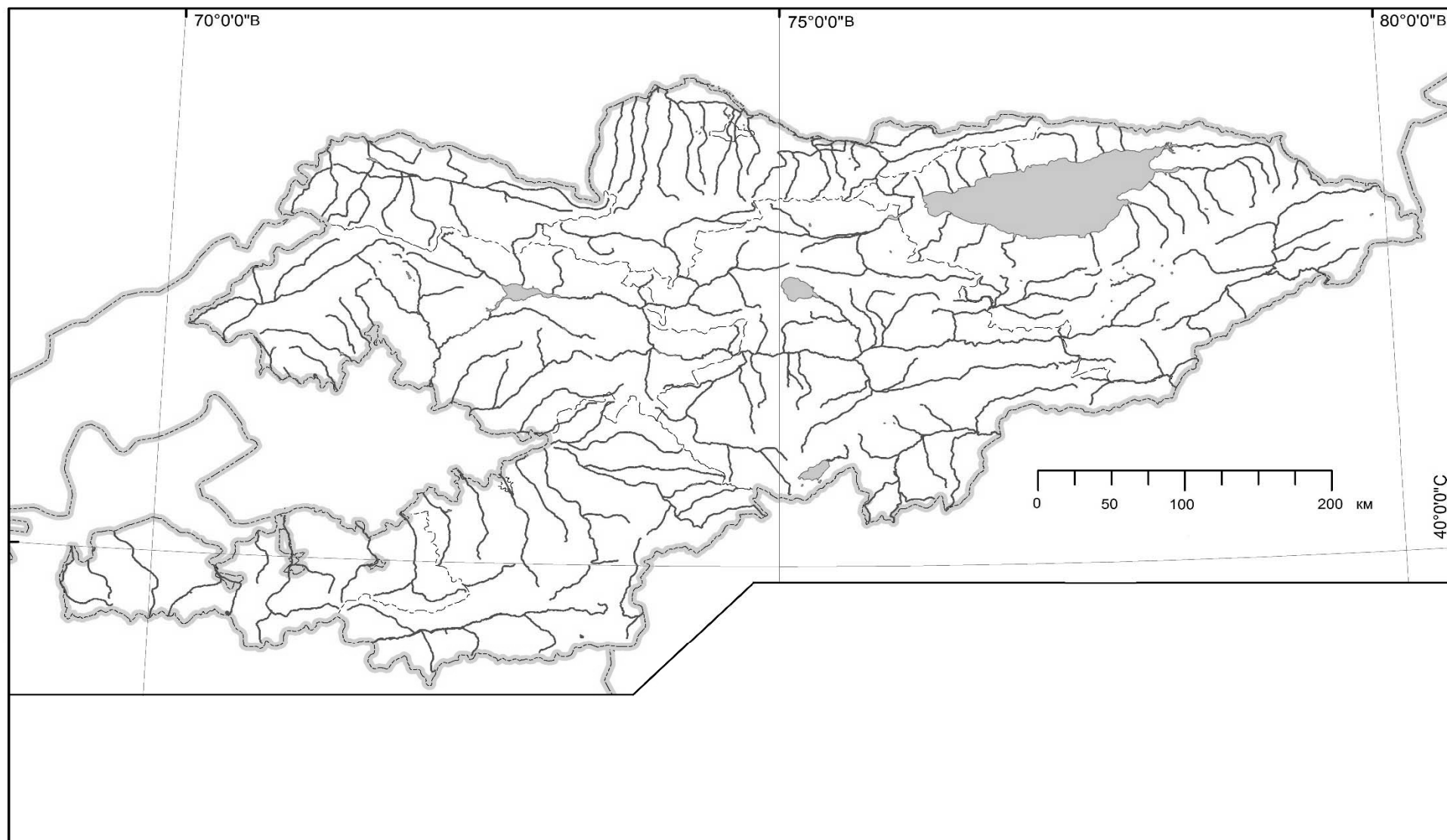
Масштаб 1:10 000

1. Топографиялык картанын аталмалуу масштабын жазгыла.
Жооп: _____ (1 упай)
2. Берилген топографиялык картада горизонталдар канча метрден кийин жүргүзүлгөн?
Жооп: _____ (2 упай)
3. Ак-Тоо тоосу Кара-Суу көлүнөн канча метрге бийик экенин аныктагыла.
Жооп: _____ (1 упай)
4. Ак-Тоо тоосунан токойчунун үйүнө чейинки азимутту аныктап, алардын ортосундагы аралыкты метр түрүндө аныктагыла.
Жооп:
Азимут: _____ (2 упай)
Аралык: _____ (1 упай)
5. А жана Б чекиттеринин ортосундагы аралыкты метр түрүндө аныктагыла.
Жооп: _____ (1 упай)
6. А чекитинин абсолюттук бийиктигин аныктагыла.
Жооп: _____ (2 упай)
7. Дарыянын агымынын багытын жана анын ылдамдыгын аныктагыла.
Жооп:
багыт: _____ (1 упай)
ылдамдык: _____ (1 упай)

2-тапшырма. Төмөндө берилген шарттуу белгилердин аталыштарын жазгыла (10 упай)

№	Шарттуу белги	Шарттуу белгинин аталышы	Упай
1			
2			
3			
4			
5			
6			
7			
8			
9			
10			

КЫРГЫЗ РЕСПУБЛИКАСЫ. КЫРГЫЗСКАЯ РЕСПУБЛИКА



3-тапшырма. Кыргызстандын контурдук картасы менен иштөө.

(Бардыгы 20 упай. Контурдук картада туура көрсөтүлгөн ар бир объект үчүн 1ден упай)

Контурдук картага төмөнкү кендерди түшүргүлө:

- 1) Кадам-Жай сурьма кени;
- 2) Жыргалаң таш көмүр кени;
- 3) Талды-Булак алтын кени;
- 4) Бала-Чычкан темир кени.

Контурдук картага төмөнкү административдик райондорду түшүргүлө:

- 5) Лейлек району;
- 6) Москва району;
- 7) Тоң району;
- 8) Ала-Бука району.

Контурдук картага төмөнкү чокуларды түшүргүлө:

- 9) Чыгыш таңы чокусу;
- 10) Манас чокусу (4482 м);
- 11) Хан-Теңир чокусу;
- 12) Данков чокусу.

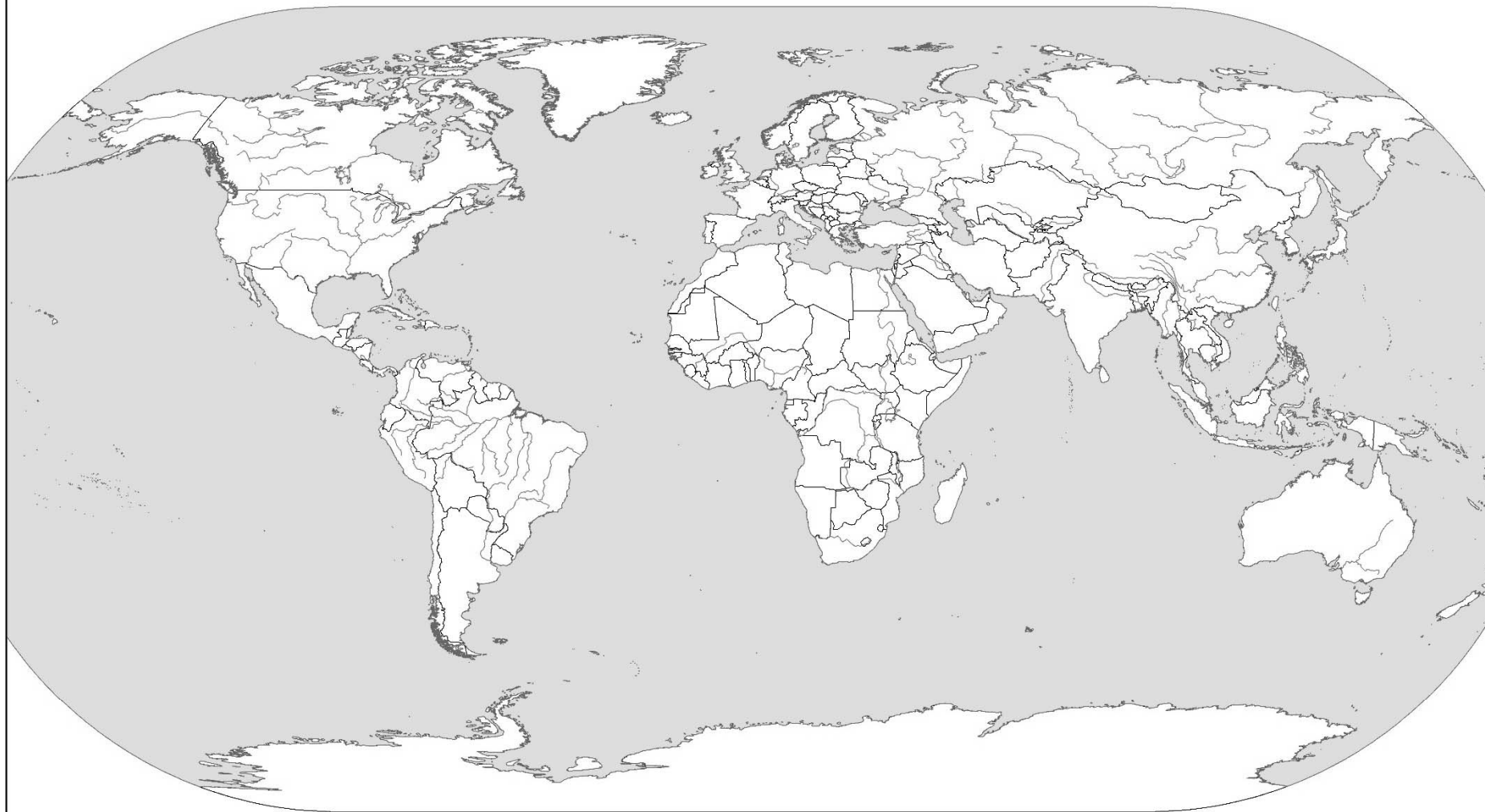
Контурдук картага төмөнкү кырка тоолорду түшүргүлө:

- 13) Түркстан кырка тоосу;
- 14) Пскем кырка тоосу;
- 15) Молдо-Тоо кырка тоосу;
- 16) Заилий кырка тоосу.

Контурдук картага корукка алынган төмөнкү табигый территорияларды түшүргүлө:

- 17) “Ала-Арча” улуттук жаратылыш паркы;
- 18) Нарын мамлекеттик коругу;
- 19) “Кыргыз-Ата” улуттук жаратылыш паркы;
- 20) “Беш-Таш” улуттук жаратылыш паркы.

ДҮЙНӨНҮН КАРТАСЫ. КАРТА МИРА



0 1000 2000 4000 км

4-тапшырма. Дүйнөнүн контурдук картасы менен иштөө.
(Бардыгы 33 упай. Контурдук картада туура көрсөтүлгөн ар бир объект үчүн 1ден упай)

Дүйнөнүн контурдук картасынан төмөнкү географиялык объекттер кайда жайгашкандыгын көрсөткүлө:

Шаарлар:

1. Рио-де-Жанейро;
2. Ванкувер;
3. Лагос;
4. Бомбей (Мумбай);
5. Жакарта;
6. Владивосток;
7. Гавана;

Мамлекеттер:

8. Румыния;
9. Боливия;
10. Мьянма;
11. Чад;
12. Никарагуа;
13. Папуа-Жаңы Гвинея.

Аралдар:

14. Ньюфаундленд аралы;
15. Шпицберген аралдары;
16. Кипр аралы;
17. Новосибирск аралдары;
18. Шри-Ланка аралы;
19. Тайвань аралы;
20. Кабо-Верде аралдары.

Көлдөр:

21. Жогорку (Верхнее) көлү;
22. Байкал көлү;
23. Ньяса көлү;
24. Улуу Аюу (Большое Медвежье) көлү;
25. Ладога көлү;
26. Маракайбо көлү;

Деңиздер жана булуңдар:

27. Росс деңизи;
28. Калифорния булуңу;
29. Тасман деңизи;
30. Гвинея булуңу;
31. Перс булуңу;
32. Саргассо деңизи;
33. Уэдделл деңизи.

**5-тапшырма. Төмөнкү таблицанын бош жерлерин толтургула.
(Бардыгы 30 упай, ар бир туура жооп үчүн 1ден упай).**

Желек	Өлкө	Борбору	Дүйнө бөлүгү
