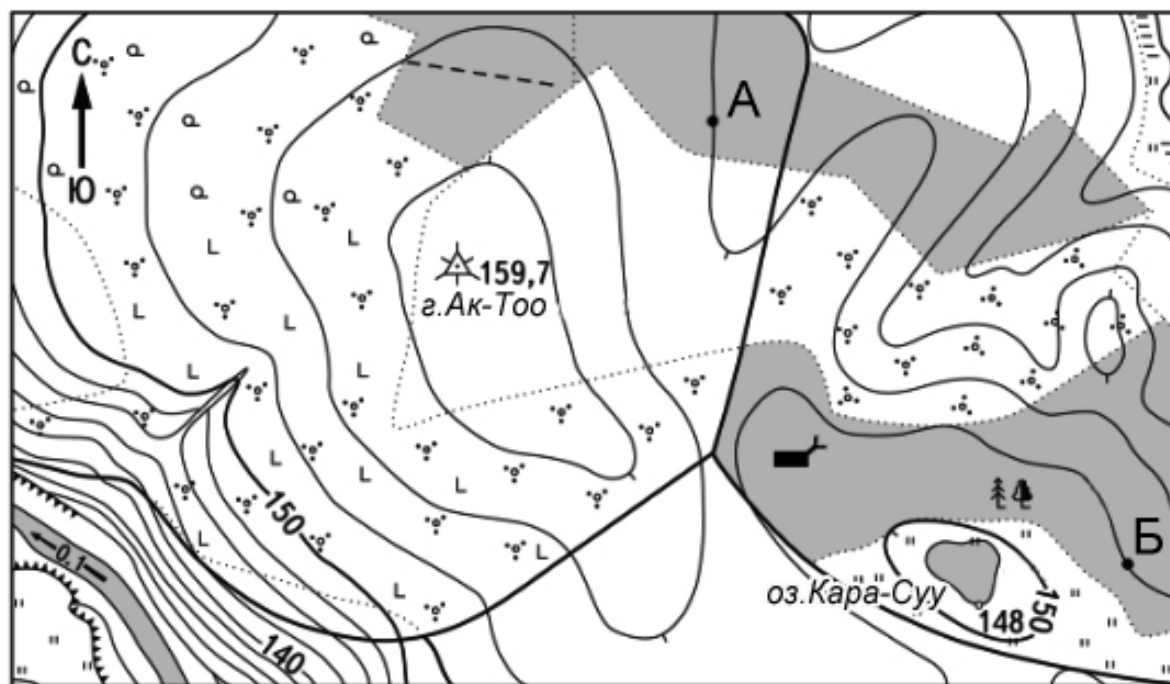


**География. Районный этап
ПРАКТИЧЕСКИЙ ТУР. День 1. ОТВЕТЫ**
Максимальное количество баллов за практический тур: 105

Задание №1. Работа с топографической картой (12 баллов)



Масштаб 1:10 000

1. Напишите именованный масштаб топокарты.

Ответ: в 1 см 100 м (1 балл)

2. Через сколько метров проведены горизонтали на данной топокарте?

Ответ: 2,5 м (2 балла)

3. Определите на сколько метров гора Ак-Тоо выше озера Кара-Суу.

Ответ: $159,7 - 148 = 11,7$ м (1 балл)

4. Определите азимут из г. Ак-Тоо на домик лесника и расстояние между ними в метрах.

Ответ:

Азимут: 120° (2 балла)

Расстояние: 500 м (1 балл)

5. Определите расстояние между точками А и Б в метрах.

Ответ: 800 м (1 балл)

6. Определите абсолютную высоту точки А.

Ответ: 155 м н.у.м. (2 балла)

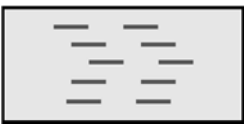
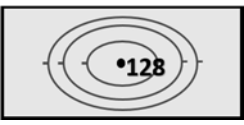

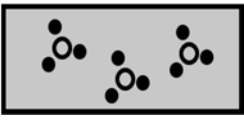






7. Определите направление течения реки и его скорость.

Ответ:

направление: СЗ (северо-запад) (1 балл)

скорость: 0,1 м/сек (1 балл)

Задание №2. Напишите названия условных знаков, показанных ниже (10 баллов)

№	Условный знак	Название условного знака	Баллы
1		болото	1
2		горизонтالي (возвышенность с отметкой высоты)	1
3		канал	1
4		Кустарник	1
5		Луг	1
6		Овраг	1
7		Колодец	1
8		Родник, ключ	1
9		Смешанный лес	1
10		Фруктовый сад	1

Задание №3. Работа с контурной картой Кыргызстана.

(Всего 20 баллов. По 1 баллу за каждый правильно указанный на контурной карте объект)

Нанесите на контурную карту следующие месторождения:

- 1) месторождение сурьмы Кадам-Жай;
- 2) месторождение каменного угля Джергалан;
- 3) месторождение золота Талды-Булак;
- 4) месторождение железа Бала-Чичкан.

Нанесите на контурную карту следующие административные районы:

- 5) Ляйлякский район;
- 6) Московский район;
- 7) Тонский район;
- 8) Ала-Букинский район.

Нанесите на контурную карту следующие вершины (пики):

- 9) Пик Заря Востока;
- 10) Пик Манаса (4482 м);
- 11) Пик Хан-Тенгри;
- 12) Пик Данкова.

Нанесите на контурную карту следующие горные хребты:

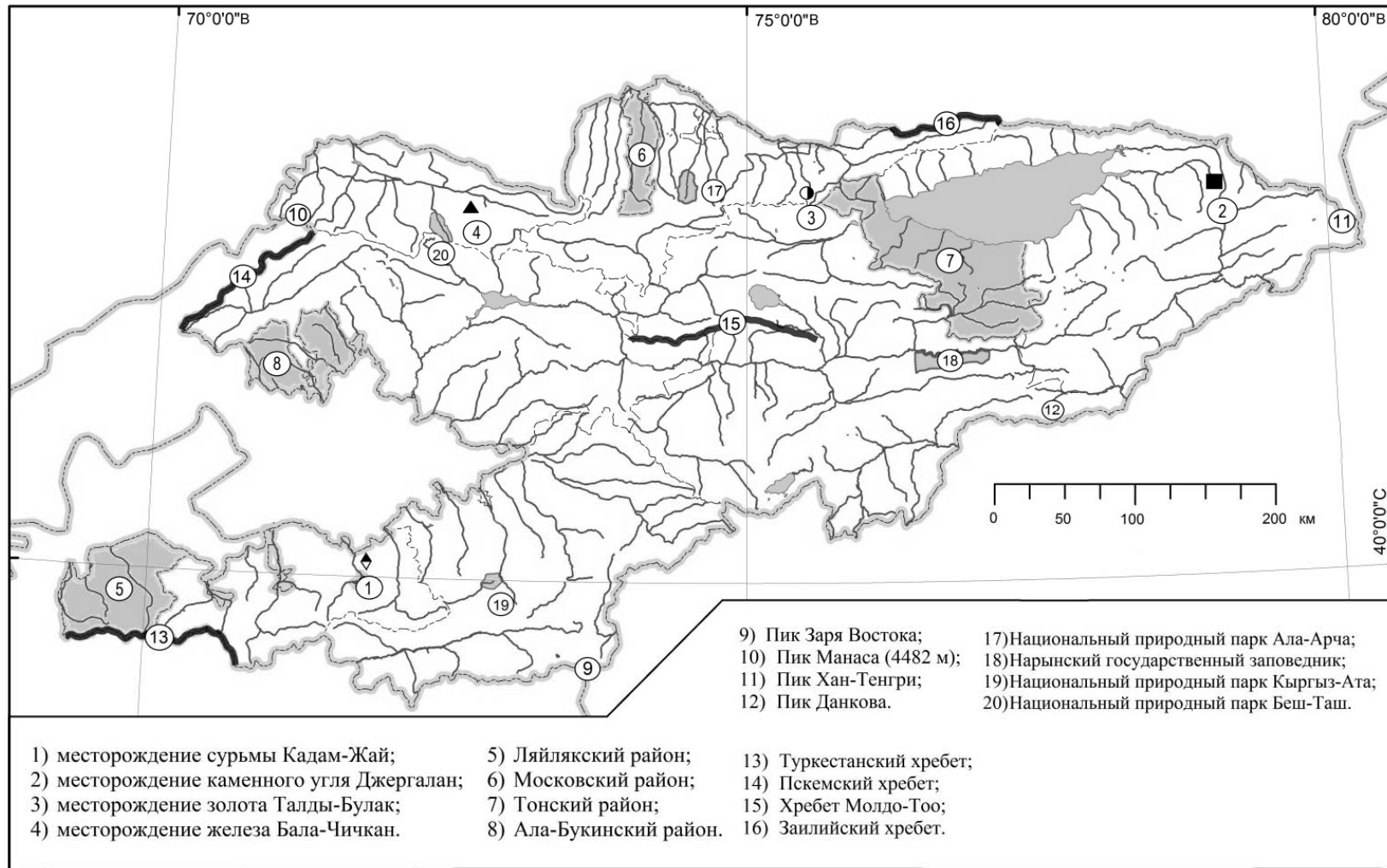
- 13) Туркестанский хребет;
- 14) Пскемский хребет;
- 15) Хребет Молдо-Тоо;
- 16) Заилийский хребет.

Нанесите на контурную карту следующие охраняемые природные территории:

- 17) Национальный природный парк Ала-Арча;
- 18) Нарынский государственный заповедник;
- 19) Национальный природный парк Кыргыз-Ата;
- 20) Национальный природный парк Беш-Таш.

**Задание №3. Работа с контурной картой Кыргызстана.
(Всего 20 баллов. По 1 баллу за каждый правильно указанный на контурной карте объект)**

КЫРГЫЗ РЕСПУБЛИКАСЫ. КЫРГЫЗСКАЯ РЕСПУБЛИКА



Задание №4. Работа с контурной картой Мира.

(Всего 33 балла. По 1 баллу за каждый правильно указанный на контурной карте объект)

Укажите на контурной карте Мира где расположены следующие географические объекты:

Города:

1. Рио-де-Жанейро;
2. Ванкувер;
3. Лагос;
4. Бомбей (Мумбай);
5. Джакарта;
6. Владивосток;
7. Гавана;

Государства:

8. Румыния;
9. Боливия;
10. Мьянма;
11. Чад;
12. Никарагуа;
13. Папуа Новая Гвинея.

Острова:

14. о. Ньюфаундленд;
15. о-ва Шпицберген;
16. о. Кипр;
17. Новосибирские о-ва;
18. о. Шри-Ланка;
19. о. Тайвань;
20. о-ва Кабо-Верде.

Озёра:

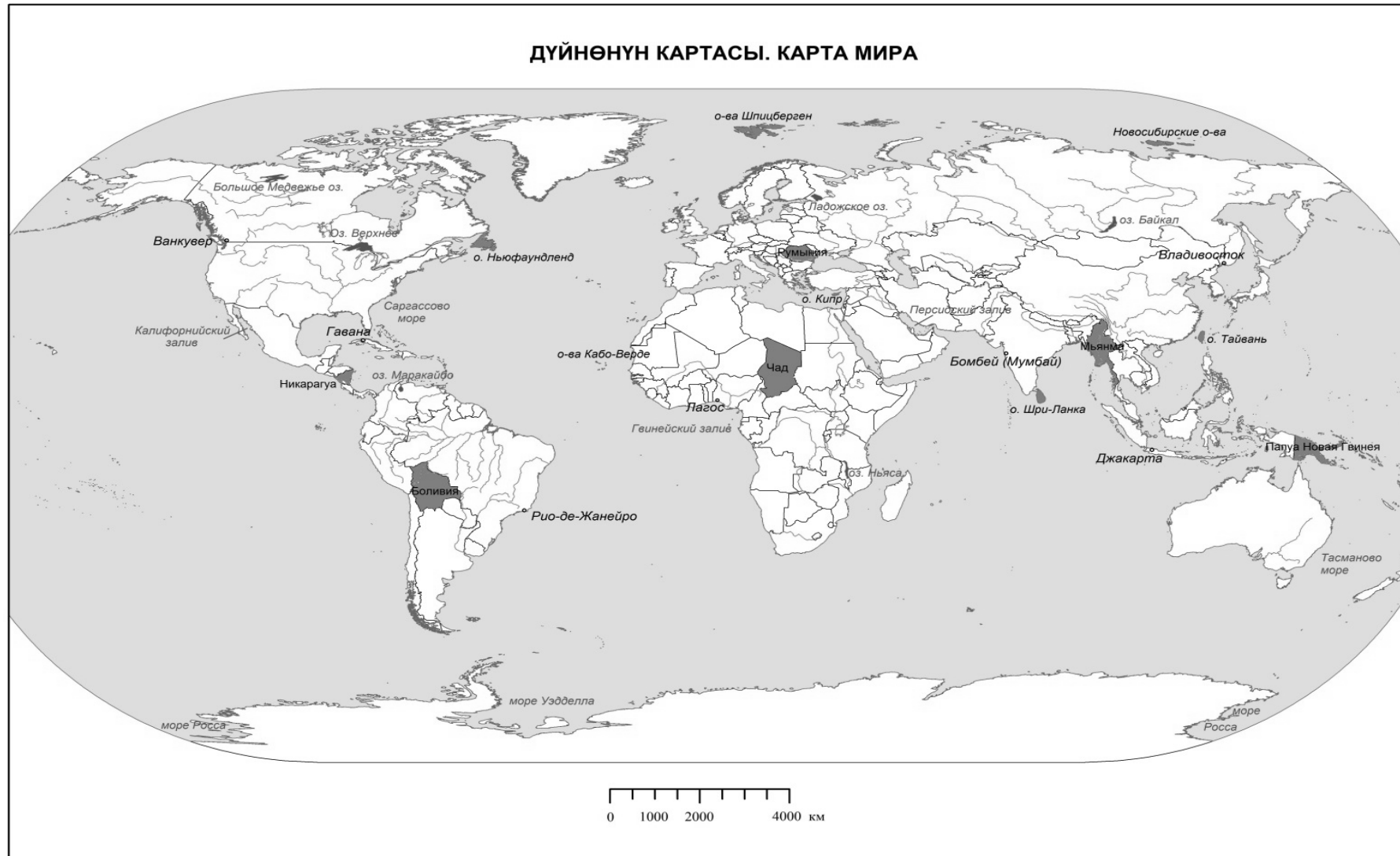
21. оз. Верхнее;
22. оз. Байкал;
23. оз. Ньяса;
24. Большое Медвежье оз.;
25. Ладожское оз.;
26. оз. Маракайбо;

Моря и заливы:











27. море Росса;
28. Калифорнийский залив;
29. Тасманово море;
30. Гвинейский залив;
31. Персидский залив;
32. Саргассово море;
33. море Уэдделла.

Задание №4. Работа с контурной картой Мира.

(Всего 33 балла. По 1 баллу за каждый правильно указанный на контурной карте объект)



Задание №5. Заполните пустые ячейки нижеследующей таблицы.
(Всего 30, по 1 баллу за каждый правильный ответ).

Желек Флаг	Мамлекет Страна	Борбору Столица	Дүйнө бөлүгү Часть Света
	Бразилия	Бразилиа	Америка
	Кения	Найроби	Африка
	Македония	Скопье	Европа
	Чехия	Прага	Европа
	Индия	Нью-Дели	Азия
	Камбоджа	Пномпень	Азия
	Монголия	Улан-Батор	Азия
	Панама	Панама	Америка
	Беларусь	Минск	Европа
	Непал	Катманду	Азия