

**Районная олимпиада по истории.  
Ответы для вывешивания и для жюри.**

**2 день**

*Максимально 50 баллов.*

1. В Древнем Риме счет лет вели от основания Рима в 753 г до н.э., в христианском мире в качестве начальной точки летоисчисления принята дата рождения Христа – 1.н.э., арабы положили начало мусульманскому календарю – хиджре – в 622 г.

**Максимально – 6 баллов**

**2 балла за правильно решенную задачу.**

**Участники могут указать только ответ и не демонстрировать решение задачи.**

Используя указанные выше календари, определите;

- (А) В каком году от основания Рима началось восстание под руководством Спартака  
Восстание под руководством Спартака началось в 73 г. до н. э.  
 $753 \text{ г. до н.э.} - 73 \text{ г. до н. э.} = 680 \text{ г}$   
Ответ – восстание Спартака началось в 680 г. от основания Рима.
- (Б) В каком году по мусульманскому календарю Мухаммед основал Арабское государство?  
 $630 \text{ г.} - 622 \text{ г.} = 8$   
Арабское государство было основано в 8 году хиджры
- (В) Какое событие, записанное по мусульманскому календарю в 477 г. было важным и для истории мусульманских государств Востока и для христианских государств Европы?  
 $477 \text{ г.} + 622 = 1099 \text{ г}$  – крестоносцы в ходе первого крестового похода взяли Иерусалим

2. Расположите события в хронологической последовательности, заполнив таблицы ниже.

**За задание максимально 10 баллов – по 5 баллов за таблицу, если вся последовательность событий правильная.**

Если в таблице есть ошибка – **0 баллов**. Оценивается каждая таблица самостоятельно. Участники могут не записывать даты событий, им надо только установить последовательность исторических событий.

I) *История Кыргызстана*

- (А) Образование Великого Тюркского каганата  
(Б) Битва Александра Македонского с саками  
(В) Первое упоминание о кыргызах в китайских письменных источниках  
(Г) Битва в Черни Сунга  
(Д) Принятие караханидами ислама как государственной религии  
(Е) Андижанское восстание  
(Ж) Образование КССР

1	2	3	4	5	6	7
Б 329 г. до н.э.	В 201 г. до н.э.	А 552 г.	Г 711 г.	Д 960 г.	Е 1898	Ж 1936 г.

II) *Всеобщая история*

- (А) Раздел империи Карла Великого
- (Б) Падение Западной Римской империи
- (В) Начало буржуазной революции в Англии
- (Г) Начало книгопечатанья в Европе
- (Д) Война за независимость в Северной Америке
- (Е) Восстание декабристов в России
- (Ж) Начало Столетней войны

1	2	3	4	5	6	7
Б 476 г	А 843	Ж 1337 г	Г 1445 г.	В 1640 г.	Д 1775-1783 гг	Е 1825 г

3. Установите соответствия между событиями истории Кыргызстана и всеобщей истории, произошедшими в пределах одного века.

Запишите в таблицу выбранные цифры под соответствующими буквами.

**За задание максимально 5 баллов – 1 балл за каждую правильно определенную пару событий**

А) Раздел Тюркского каганата на Западный Тюркский каганат и Восточный Тюркский каганат Б) Принятие кыргызами-бугу российского подданства В) Первая прозаическая запись сюжетов эпоса «Манас» Сейф-ад-дином Ахсикенти в «Маджму ат-таварих» Г) Первое упоминание этнонима кыргыз в письменных источниках Д) Вторжение Чингизхана и установление его власти на Тянь-Шане	1) Ледовое побоище 2) Образование империи Великих Моголов 3) Парижская коммуна во Франции 4) Образование Арабского халифата 5) Образование империи Цинь Шихуанди

А	Б	В	Г	Д
4	3	2	5	1

4. Объясните, что с исторической точки зрения объединяет перечисленных в ряду людей:

**Максимально 2 балла**

**1 балл – А) средневековые ученые в Центральной Азии**

**1 балл – Б) мореплаватели и первооткрыватели периода Великих географических открытий**

(А) Аль-Фараби, Аль-Хорезми, Ибн-Сина,

---

Б) Христофор Колумб, Фернандо Магеллан, Васко да Гама

---

5. Составьте пары исторических личностей, которые являются современниками:

**Максимально за все задание – 7 баллов**

**По 1 баллу за правильно составленную пару.**

А) Великий киевский князь Владимир I	1) Махмуд Кашгари
Б) Джордж Вашингтон	2) Хайду-хан
В) Николай Коперник	3) Токтогул Сатылганов
Г) Кир II	4) Сатук Богра-хан Карахан
Д) Аль Бируни	5) Атаке-бий
Е) Александр Невский	6) Захириддин Мухаммад Бобур
Ж) Владимир Маяковский	7) Томирис

А	Б	В	Г	Д	Е	Ж
4	5	6	7	1	2	3

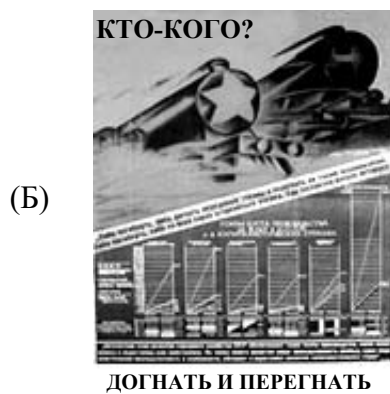
6. Многие исторические события нашли свое отражение в плакатах. На иллюстрациях ниже представлены плакаты, характеризующие важные события из истории Союза Советских социалистических Республик, одной из союзных республик которого была Киргизская ССР.

Определите какое историческое событие отражено на плакате


Максимально 4 балла




Гражданская война



Индустриализация



Коллективизация



Великая Отечественная война

7. Прочитайте текст. Определите пропущенные в тексте названия, слова, имена, даты, обозначенные порядковыми номерами. При необходимости в скобках рядом с порядковыми номерами даются пояснения о характере требуемой вставки. Необходимые вставки впишите под соответствующими номерами в таблицу в конце текста.

**Максимально – 10 баллов, по 1 баллу за каждую правильную позицию**

Сведения о войнах среднеазиатских саков и персов сохранились в 1. \_\_\_\_\_ и 2. \_\_\_\_\_ письменных источниках. В 3. \_\_\_\_\_ году против саков пошел в поход основатель персидской империи 4. \_\_\_\_\_. Ему противостояли саки 5. \_\_\_\_\_ во главе с царицей 6. \_\_\_\_\_. Персы потерпели поражение, а их предводитель погиб. Но спустя некоторое время, в 7 \_\_\_\_\_ году новый поход против саков предпринял 8 \_\_\_\_\_ (имя царя). Об этом походе рассказывается в Бехистунской надписи:

«Говорит 8 \_\_\_\_\_ (имя царя): затем я с войском отправился против страны саков. Затем саки, которые носят остроконечные шапки, выступили, чтобы дать битву... Затем я наголову разбил саков, а другую часть захватил в плен... Вождя их по имени 9 \_\_\_\_\_ взяли в плен и привели ко мне... Тогда я другого назначил их вождём, как на то было моё желание. Затем страна стала моей».



Однако есть и другая версия об этом походе, которую изложил историк Полиен (II в.), основываясь на преданиях саков. Она повествует о том, что пастух 10 \_\_\_\_\_ из племени саков, нанес себе страшные раны и сказал персам, что хочет отомстить своим соплеменникам. Он взялся провести войско персов по известным ему одному тропам, чтобы внезапно напасть на противника с тыла. Через семь дней пути по безводной пустыне, измученные жаждой персы поняли, что их обманули. Храброго пастуха персы казнили, а их поход закончился неудачей.

Ответы:

1. персидских
2. греческих
3. 530 г. до н.э.
4. Кир II
5. массагеты
6. Томирис
7. 519 г. до н.э.
8. Дарий I
9. Скунха
10. Ширак

8. Ответьте на следующие вопросы:

В первом вопросе участники могут указать две причины, в силу которых персидские цари стремились покорить сакские племена.

**Максимально – 4 балла**

**2 балла за указание одной причины**

1. Почему персидские цари стремились завоевать саков?

---

а) Персидские цари стремились к расширению своих территорий и созданию могущественной империи на Востоке.

б) Саки были кочевниками и совершали набеги на территорию Персидского царства в период его создания

*Примечание: данные ответы примерные*

2) Почему указанные выше в задании 7 источники расходятся в сведениях об итогах войн персов с саками?

**Максимально 2 балла**

Персидские источники стремятся прославить могущество Персидской державы.

Греческие источники стремятся показать, что Персия потерпела поражение в войне с сакскими племенами, так как Греция является противником персов в греко-персидских войнах.

*Примечание: данные ответы примерные*